







# Annexe 1

## Décomposer des nombres décimaux (exemple complété)

Symbole	12,53	12,35
Photo du matériel organisé		
Photo du dessin avec la légende		
Description avec le matériel	<p>un paquet de dix rubans deux rubans 5 bouts de « un ruban divisé en 10 » 3 bouts de « un ruban divisé en 100 »</p>	<p>un paquet de dix rouleaux deux rouleaux 3 bouts de « un rouleau divisé en 10 » 5 bouts de « un rouleau divisé en 100 »</p>
Valeur des chiffres		
En français	<p>Une dizaine Deux unités Cinq dixièmes Trois centièmes</p>	<p>Une dizaine Cinq unités Trois dixièmes Deux centièmes</p>
Décomposition en rangs	<p>Dizaines : 1 Unités : 2 Dixièmes : 5 Centièmes : 3</p>	<p>Dizaines : 1 Unités : 5 Dixièmes : 3 Centièmes : 2</p>

## Décomposer des nombres décimaux

<b>Symbole</b>	
<b>Photo du matériel organisé</b>	
<b>Photo du dessin avec la légende</b>	
<b>Description avec le matériel</b>	
<b>Valeur des chiffres</b>	
<b>En français</b>	dizaine unités dixièmes centièmes
<b>Décomposition en rangs</b>	Dizaines : Unités : Dixièmes : Centièmes :